



## 2. ročník - 1. pololetí

1. - Doplň správně taktové čáry

- Napiš pod noty názvy tónů (nezapomeň na označení oktáv)
- Vytleskej s hlasitým počítáním



2. Napiš (nezapomeň na klíč) .....




gis2  
čtvřová

hes  
půlová

dis2 eis2  
šestnáctinové

pomlka  
půlová

pomlka  
celá



fis1  
celá

as2  
osminová s tečkou

a2  
půlová s tečkou

dis3  
čtvřová s tečkou

pomlka  
osminová

3. Přiřaď předznamenání k tónině, spoj čarou

4 # (fis, cis, gis, dis)

2 # (fis, cis)

1 # (fis)

3 # (fis, cis, gis)

D dur

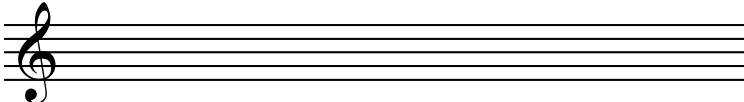
A dur

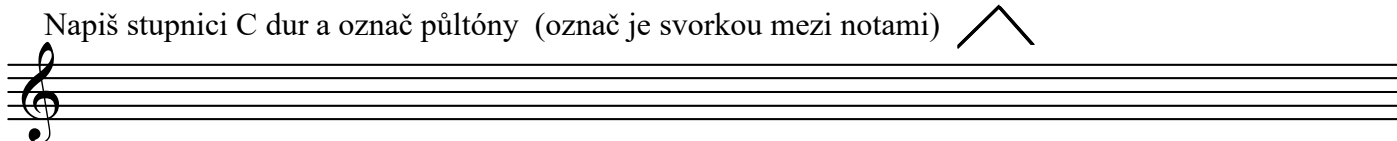
E dur

G dur

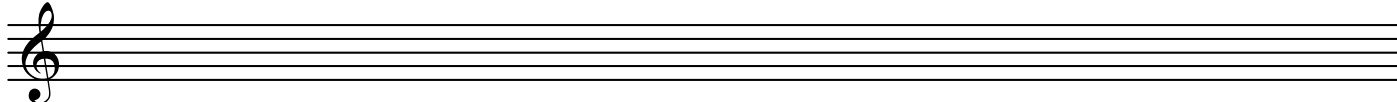
4. Znalost not v houslovém klíči f - g3, (klavíristé + basový klíč C - g1)

Napiš správně předznamenání

E dur 

Napiš stupnici C dur a označ půltóny (označ je svorkou mezi notami) 

Napiš stupnici a moll aiolskou (přirozenou) a označ půltóny.



Mezi kterými stupni má půltóny durová stupnice? .....

A mezi kterými mollová? .....

Zahraj si a moll harmonickou a melodickou, rozeznáš je od sebe podle sluchu?



harmonická moll



melodická moll

Co k sobě patří? Spoj čarou.

legato

krátce

ritardando

opakování

crescendo

vázaně

dynamika

označení síly

staccato

zesilovat

repetice

zpomalit